


L (リットル) と dL (デシリットル) のかんけいについて、考えましょう。

①



$$1 \text{ L} = 10 \text{ dL}$$

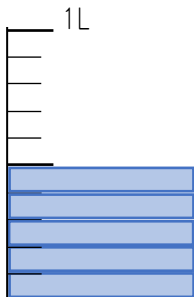
$$0.1 \text{ L} = 1 \text{ dL}$$


0.1 L が (3) つで 0.3 L

0.1 L = (1) dL だから、

0.3 L = (3) dL

②



「」1つ分は、0.1 L です。
 0.1 L の (10) 分は、1 L です。
 1 dL が 10 分で 1 L なので、
 0.1 L = (1) dL となります。

0.1 L が (5) つで 0.5 L

0.1 L = (1) dL だから、

0.5 L = (5) dL

L (リットル) と dL (デシリットル) のかんけいについて、考えましょう。

①



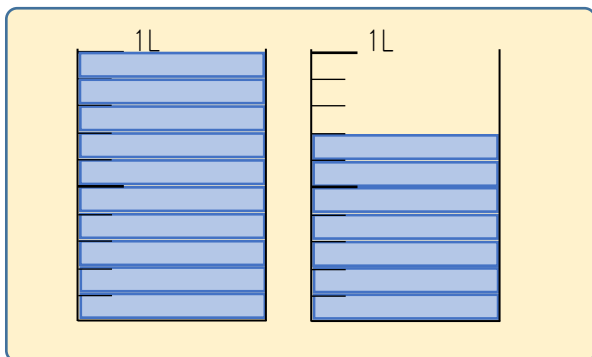
$$1 \text{ L} = 10 \text{ dL}$$
$$0.1 \text{ L} = 1 \text{ dL}$$


0.1 L が (8) つで 0.8 L

0.1 L = (1) dL だから、

0.8 L = (8) dL

②



「」が、ぜんぶで
17こあります。

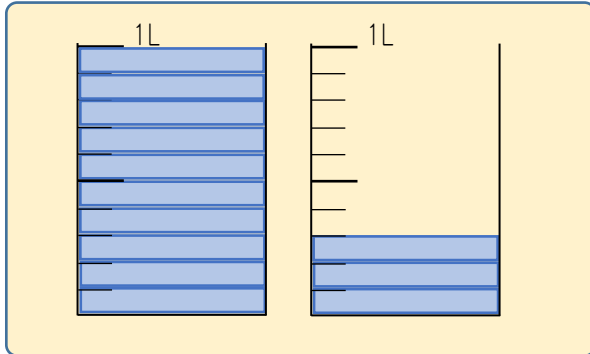
0.1 L が (17) こで 1.7 L


0.1 L = (1) dL だから、

1.7 L = (17) dL

L (リットル) と dL (デシリットル) のかんけいについて、考えましょう。

①



「」が、ぜんぶで
13こあります。

0.1 L が (13) こで 1.3 L

0.1 L = (1) dL だから、

1.3 L = (13) dL

◆ れんしゅう ◆

$$1 \text{ L} = (10) \text{ dL}$$

$$0.2 \text{ L} = (2) \text{ dL}$$

$$1.8 \text{ L} = (18) \text{ dL}$$

$$10 \text{ dL} = (1) \text{ L}$$

$$42 \text{ dL} = (4.2) \text{ L}$$

$$39 \text{ dL} = (3.9) \text{ L}$$

$$0.1 \text{ L} = (1) \text{ dL}$$

$$0.5 \text{ L} = (5) \text{ dL}$$

$$2.6 \text{ L} = (26) \text{ dL}$$

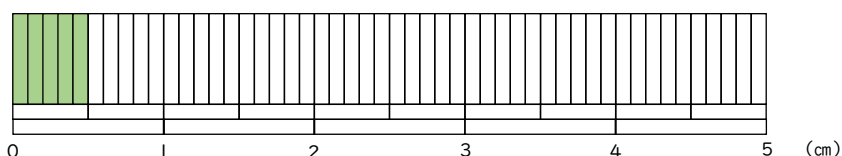
$$3 \text{ dL} = (0.3) \text{ L}$$

$$20 \text{ dL} = (2) \text{ L}$$

$$7 \text{ dL} = (0.7) \text{ L}$$

cm (センチメートル) と mm (ミリメートル) のかんけいについて、考えましよう。色のついたところは、何cmになりますか。また、何mmになりますか。

①



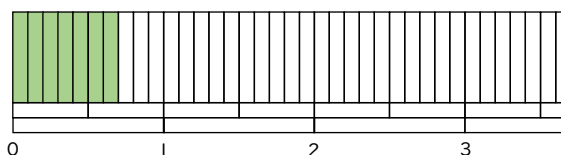
$$1 \text{ cm} = 10 \text{ mm}$$
$$0.1 \text{ cm} = 1 \text{ mm}$$


0.1 cm が (5) つで 0.5 cm

0.1 cm = (1) mm だから、

0.5 cm = (5) mm

②



「」1つ分は、0.1 cm です。

0.1 cm の (10) こ分は、1 cm です。

1 mm が 10 こ分も 1 cm なので、

0.1 cm = (1) mm となります。

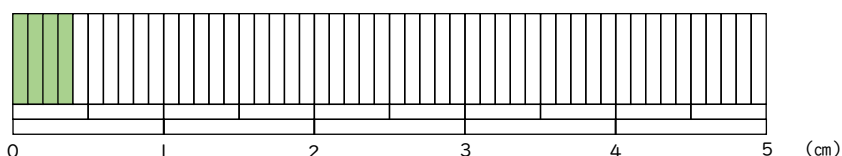
0.1 cm が (7) つで 0.7 cm

0.1 cm = (1) mm だから、

0.7 cm = (7) mm

cm (センチメートル) と mm (ミリメートル) のかんけいについて、考えましよう。色のついたところは、何cmになりますか。また、何mmになりますか。

①



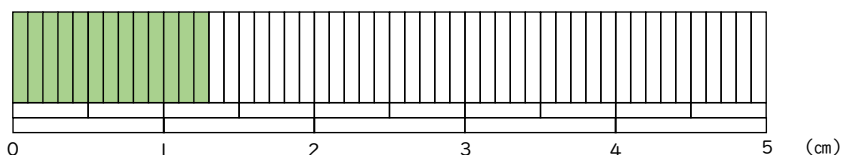
$$1 \text{ cm} = 10 \text{ mm}$$
$$0.1 \text{ cm} = 1 \text{ mm}$$

0.1 cm が (4) つで 0.4 cm

0.1 cm = (1) mm だから、

0.4 cm = (4) mm

②



がぜんぶで
13こあります。

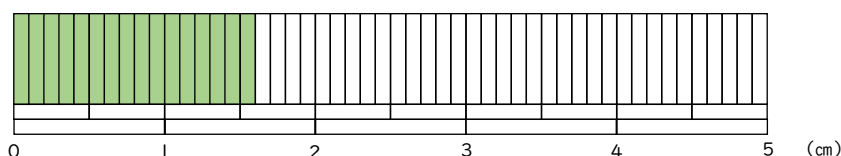
0.1 cm が (13) こで 1.3 cm

0.1 cm = (1) mm だから、

1.3 cm = (13) mm

cm (センチメートル) と mm (ミリメートル) のかんけいについて、考えましよう。色のついたところは、何cmになりますか。また、何mmになりますか。

①



がぜんぶで

21こあります。

0.1 cmが (21) こで2.1 cm

0.1 cm = (1) mmだから、

2.1 cm = (21) mm

◆ れんしゅう ◆

$$1 \text{ cm} = (10) \text{ mm}$$

$$0.1 \text{ cm} = (1) \text{ mm}$$

$$0.9 \text{ cm} = (9) \text{ mm}$$

$$0.5 \text{ cm} = (5) \text{ mm}$$

$$2.6 \text{ cm} = (26) \text{ mm}$$

$$8.4 \text{ cm} = (84) \text{ mm}$$

$$10 \text{ mm} = (1) \text{ cm}$$

$$1 \text{ mm} = (0.1) \text{ cm}$$

$$2 \text{ mm} = (0.2) \text{ cm}$$

$$18 \text{ mm} = (1.8) \text{ cm}$$

$$75 \text{ mm} = (7.5) \text{ cm}$$

$$6 \text{ mm} = (0.6) \text{ cm}$$